

**Egzamin z Mechaniki Konstrukcji II 1 IX 2015 r.**  
**Wydział Inżynierii Lądowej, studia stacjonarne**

NAZWISKO imię				
Grupa	Data zaliczenia ćwiczeń	Numer albumu		
Ocena zadania 1	Ocena zadania 2	Ocena zadania 3	Ocena z egzaminu	Ocena łączna
				Data

**Zadanie 1**

Dana belka ( $EJ=const, \mu = const$ )  
 jest poddana obciążeniu harmonicznemu  
 jak na rysunku.

$$\theta = \frac{1}{l^2} \sqrt{\frac{EJ}{\mu}}$$

Zapisz równania

określające amplitudę ugięcia  $w_B$

(Given beam ( $EJ=const, \mu = const$ ))

is subject to the harmonic load, cf the figure.

$$\theta = \frac{1}{l^2} \sqrt{\frac{EJ}{\mu}}$$

Write down the equations

determining the amplitude

of the deflection  $w_B$

**Zadanie 2**

Dany pręt nieważki, którego masa  
 jest zastąpiona dwiema masami skupionymi  $3m, m$   
 poddany jest obciążeniu harmonicznemu, por. rys.

Wyrazić bezwymiarowe ugięcie  $\bar{w}_A = w_A / (P_0 l^3 / EJ)$   
 jako funkcję ilorazu

$$\theta / \varpi, \text{ gdzie } \varpi = \sqrt{\frac{EJ}{ml^3}}$$

(The given weightless bar, with lamped masses  $3m, m$ ,  
 is subject to a harmonic load, cf. the figure.

Express the non-dimensional deflection  $\bar{w}_A = w_A / (P_0 l^3 / EJ)$

as a function of the quotient  $\theta / \varpi$ , where  $\varpi = \sqrt{\frac{EJ}{ml^3}}$ .

**Zadanie 3**

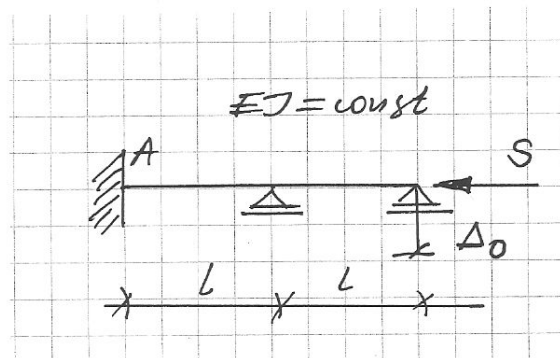
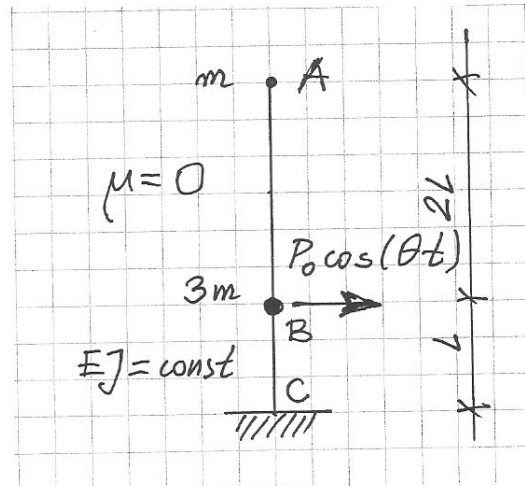
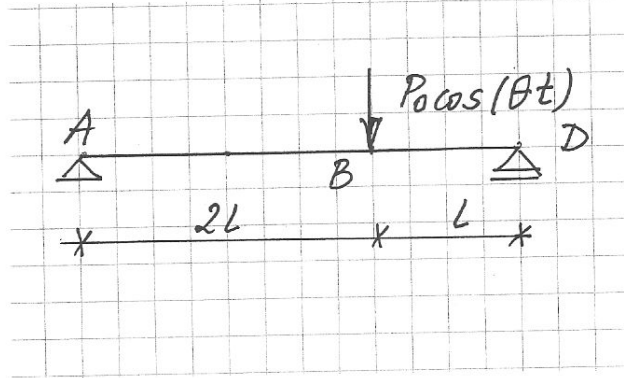
Dana belka obciążona dużą siłą osiową  $S = \pi^2 EJ / l^2$   
 jest poddana wymuszeniu kinematycznemu  $\Delta_0$ , por. rys.

Znaleźć moment zginający  $M_A$  metodą przemieszczeń  
 na dwa sposoby:

a) bezpośrednio b) korzystając z twierdzenia Bettiego  
 (Given beam subjected to a big axial force  $S = \pi^2 EJ / l^2$   
 is kinematically loaded, by the settlement of the support  $\Delta_0$ , see fig.

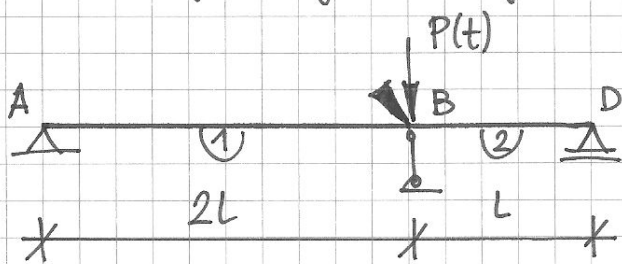
Find the bending moment  $M_A$  by the displacement method  
 in two manners:

a) directly b) with using Betti's theorem



Egzamin z MK2, 1 IX 2015, zadanie 1

Schemat geometrycznie wyznaczalny



$$\lambda^{(1)} = 2 \quad \lambda^{(2)} = 1$$

$$P(t) = P_0 \cos(\theta t)$$

$$\theta = \frac{1}{L^2} \sqrt{\frac{EJ}{\mu}}$$

$$q_L = \begin{bmatrix} \varphi_B \\ \frac{v}{L} \end{bmatrix}$$

$q_L$  - amplituda  $q_L$

Plan prędkości



Równania równowagi:

$$\Phi_B^{(1)} + \Phi_B^{(2)} = 0$$

$$(W_B^{(1)} + W_B^{(2)} - P_0) \cdot \bar{v} = 0$$

$$K(\lambda) q_L = P_0$$

Wzory transformacyjne:

$$\Phi_B^{(1)} = \frac{EJ}{2L} \left[ \alpha'(2) \varphi_B - \gamma'(2) \frac{u}{2L} \right]$$

$$\Phi_B^{(2)} = \frac{EJ}{L} \left[ \alpha'(1) \varphi_B + \gamma'(1) \frac{u}{L} \right]$$

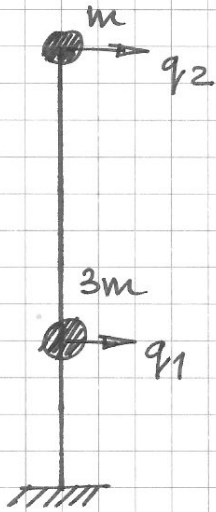
$$W_B^{(1)} = \frac{EJ}{4L^2} \left[ -\gamma'(2) \varphi_B + \gamma'(2) \frac{u}{2L} \right]$$

$$W_B^{(2)} = \frac{EJ}{L^2} \left[ \gamma'(1) \varphi_B + \gamma'(1) \frac{u}{L} \right]$$

$$q_L = \begin{bmatrix} -1,461 \\ 2,498 \end{bmatrix} \frac{P_0 L^2}{EJ}$$

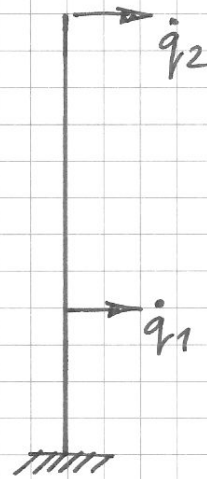
# Egzamin z MK2, 1 IX 2015, zadanie 2

Współrzędne Lagrange'a:



$$q_L = \begin{bmatrix} q_1 \\ q_2 \end{bmatrix}$$

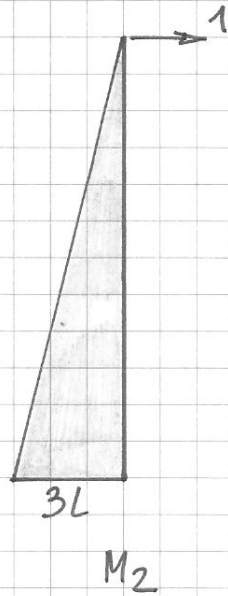
Plan prędkości



Energia kinetyczna:

$$2E_k = \dot{q}_L^T M \dot{q}_L$$

$$M = \begin{bmatrix} 3m & 0 \\ 0 & m \end{bmatrix}$$



$$D = \begin{bmatrix} 0,333 & 1,333 \\ 1,333 & 9 \end{bmatrix} \frac{L^3}{EJ}$$

$$D_0 = \begin{bmatrix} 0,333 \\ 1,333 \end{bmatrix} \frac{L^3}{EJ}$$

$$II = \begin{bmatrix} 1 & 0 \\ 0 & 1 \end{bmatrix}$$

$$(II - \theta^2 DIM) a_i = D_0 P_0$$

$a_i$  - amplituda  $q_L$

$$\left( \begin{bmatrix} 1 & 0 \\ 0 & 1 \end{bmatrix} - \theta^2 \begin{bmatrix} 0,333 & 1,333 \\ 1,333 & 9 \end{bmatrix} \begin{bmatrix} 3 & 0 \\ 0 & 1 \end{bmatrix} \frac{mL^3}{EJ} \right) \begin{bmatrix} a_1 \\ a_2 \end{bmatrix} = \begin{bmatrix} 0,333 \\ 1,333 \end{bmatrix} \frac{P_0 L^3}{EJ}$$

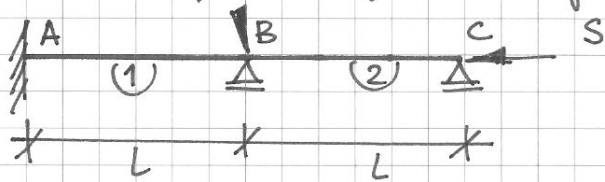
$$\left( \begin{bmatrix} 1 & 0 \\ 0 & 1 \end{bmatrix} - \left(\frac{\theta}{\bar{\omega}}\right)^2 \begin{bmatrix} 0,333 & 1,333 \\ 1,333 & 9 \end{bmatrix} \begin{bmatrix} 3 & 0 \\ 0 & 1 \end{bmatrix} \right) \begin{bmatrix} a_1 \\ a_2 \end{bmatrix} = \begin{bmatrix} 0,333 \\ 1,333 \end{bmatrix} \frac{P_0 L^3}{EJ}$$

$$\bar{w}_A(t) = \bar{a}_2 \cos(\theta t)$$

$$\bar{a}_2 = \frac{4}{3 - 30 \left(\frac{\theta}{\bar{\omega}}\right)^2 + 11 \left(\frac{\theta}{\bar{\omega}}\right)^4}$$

Egzamin z MK 2, 1 IX 2015, zadanie 3

Schemat geometryczne wyznacalny



$$S^{(1)} = S^{(2)} = S$$

$$\sigma^{(1)} = \sigma^{(2)} = 0,2$$

podpunkt 3a)

Równanie równowagi:

$$\Phi_B^{(1)} + \Phi_B^{(2)} = 0$$

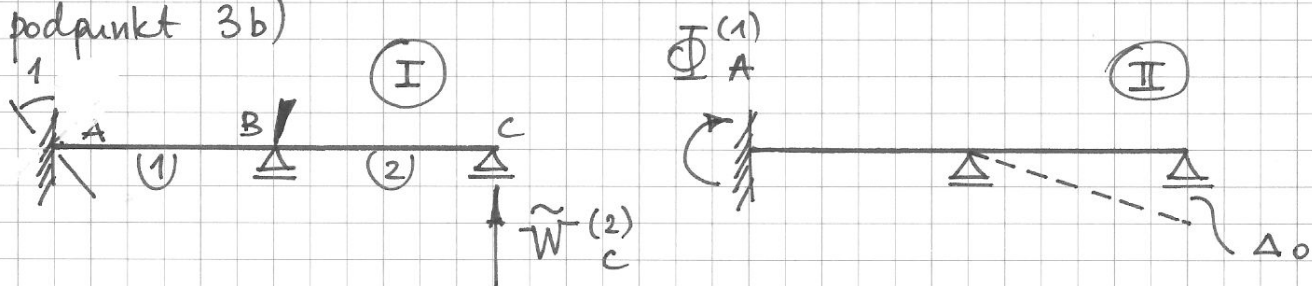
Wzory transformacyjne:

$$\Phi_B^{(1)} = \frac{EJ}{L} [\alpha(0,2) \varphi_B]$$

$$\Phi_B^{(2)} = \frac{EJ}{L} [\alpha'(0,2) \varphi_B] - \frac{EJ}{L} [\alpha'(0,2) \frac{\Delta_0}{L}]$$

$$\varphi_B = 0,428 \frac{\Delta_0}{L} \rightarrow \Phi_A^{(1)} = \frac{EJ}{L} [\beta(0,2) \varphi_B] = 0,857 \frac{EJ \Delta_0}{L^2}$$

podpunkt 3b)



Z tw. Bettiego:

$$-\Phi_A^{(1)} \cdot 1 = -\tilde{W}_C^{(2)} \cdot \Delta_0 \rightarrow \Phi_A^{(1)} = \tilde{W}_C^{(2)} \cdot \Delta_0$$

Równania równowagi w układzie (I):

$$\tilde{\Phi}_B^{(1)} + \tilde{\Phi}_B^{(2)} = 0$$

Wzory transformacyjne:

$$\tilde{\Phi}_B^{(1)} = \frac{EJ}{L} [\alpha(0,2) \varphi_B] + \frac{EJ}{L} [\beta(0,2) (-1)]$$

$$\tilde{\Phi}_B^{(2)} = \frac{EJ}{L} [\alpha'(0,2) \varphi_B]$$

$$\varphi_B = 0,286 \rightarrow \tilde{W}_C^{(2)} = \frac{EJ}{L^2} [\alpha'(0,2) \varphi_B] = 0,857 \frac{EJ}{L^2} \rightarrow$$

$$\Phi_A^{(1)} = 0,857 \frac{EJ \Delta_0}{L^2}$$