

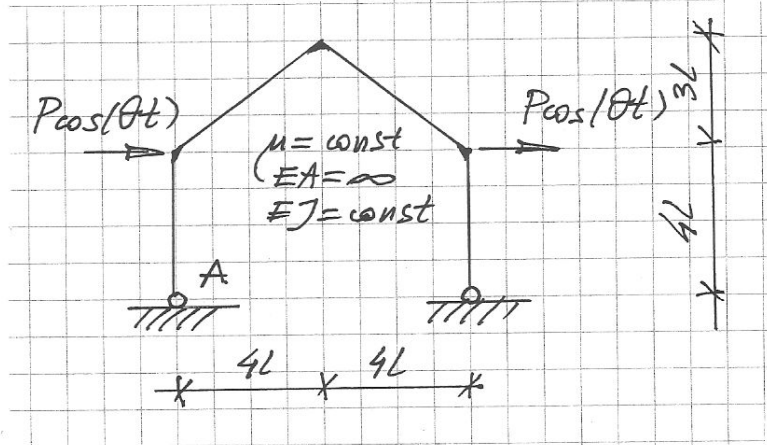
Egzamin z Mechaniki Konstrukcji II, 25 VI 2015 r.
Wydział Inżynierii Lądowej, studia stacjonarne

NAZWISKO imię				
Grupa	Data zaliczenia ćwiczeń		Numer albumu	
Ocena zadania 1	Ocena zadania 2	Ocena zadania 3	Ocena z egzaminu	Ocena łączna
				Data

Zadanie 1

Zapisz równania określające amplitudę reakcji poziomej w podporze A.

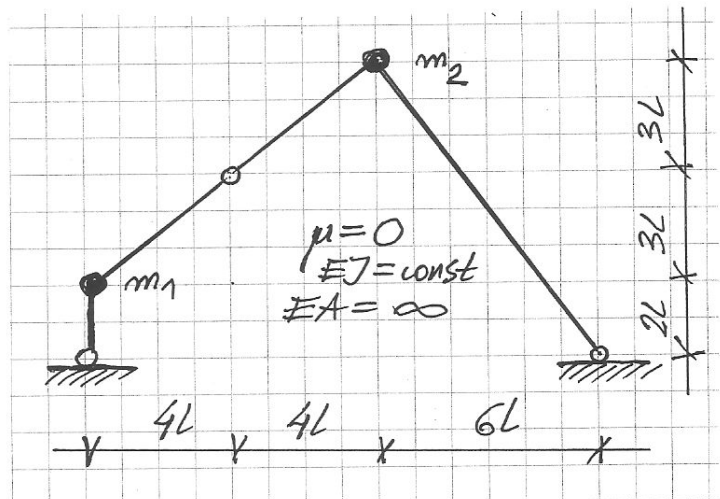
(Write down the equations determining the amplitude of the horizontal reaction at the support A.)



Zadanie 2

Niech ω_1 - pierwsza częstość drgań własnych odnosząca się do danych: $m_1 = m$, $m_2 = 2m$;
Niech $\tilde{\omega}_1$ pierwsza częstość drgań własnych odnosząca się do danych: $m_1 = 2m$, $m_2 = m$;
Oblicz iloraz $\omega_1 / \tilde{\omega}_1$.

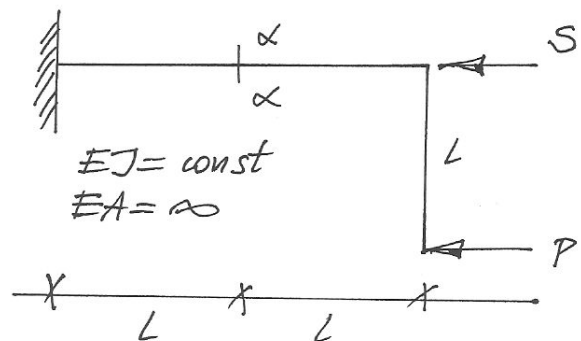
(Let ω_1 be the first eigenfrequency corresponding to $m_1 = m$, $m_2 = 2m$;
Let $\tilde{\omega}_1$ be the first eigenfrequency corresponding to $m_1 = 2m$, $m_2 = m$;
Compute the quotient $\omega_1 / \tilde{\omega}_1$.)

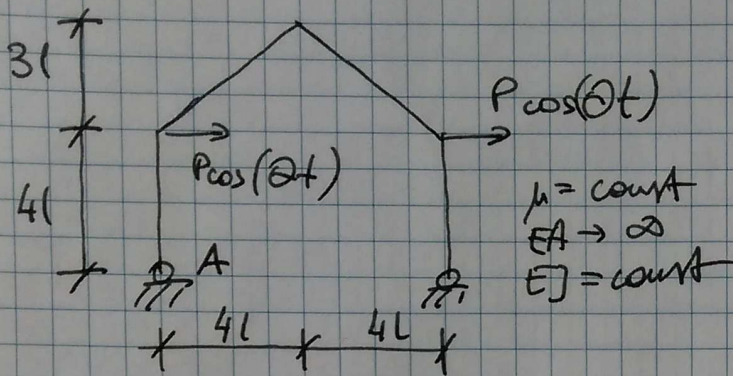


Zadanie 3

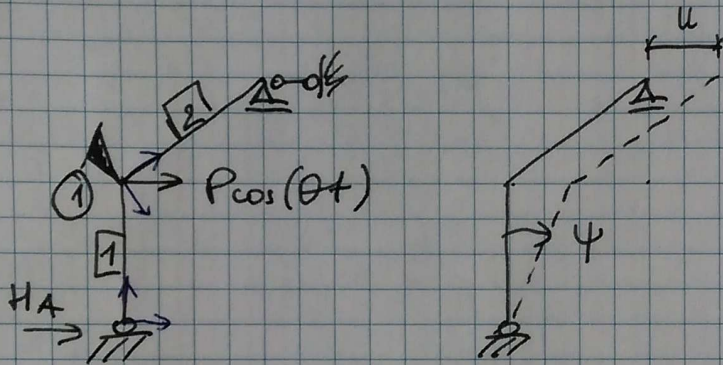
Dana rama jest obciążona dużą siłą osiową $S = EJ/l^2$ oraz siłą P (o wartości znacznie mniejszej niż S) zginającą ramę. Znaleźć moment zginający w przekroju $\alpha - \alpha$.

(The given frame is subjected to the big axial force $S = EJ/l^2$ and to the force P (of the magnitude much smaller than S) bending the frame. Find the bending moment in the section $\alpha - \alpha$.)





$H_A = ?$



$\lambda_1 = 4\lambda$
 $\lambda_2 = 5\lambda$

OPRACOWANIE JAN PBLORZYNSKI

$$\phi_1^1 = \frac{EI}{l} \left[\frac{1}{4} \alpha'(4\lambda) \varphi_1 - \frac{1}{16} \theta'(4\lambda) \frac{u}{l} \right]$$

$$\phi_1^2 = \frac{EI}{l} \left[\frac{1}{5} \alpha'(5\lambda) \varphi_1 + \left(\frac{3}{125} \theta'(5\lambda) - \frac{3}{125} \delta'(5\lambda) \right) \frac{u}{l} \right]$$

$$W_1^1 = \frac{EI}{l^2} \left[-\frac{1}{16} \theta'(4\lambda) \varphi_1 + \frac{1}{64} \gamma'(4\lambda) \frac{u}{l} \right]$$

$$W_1^2 = \frac{EI}{l^2} \left[\frac{1}{25} \theta'(5\lambda) \varphi_1 + \frac{3}{625} (\gamma'(5\lambda) - \varepsilon(5\lambda)) \frac{u}{l} \right]$$

$$W_B^2 = \frac{EI}{l^2} \left[-\frac{1}{25} \delta'(5\lambda) \varphi_1 + \frac{3}{625} (\chi'(5\lambda) - \varepsilon'(5\lambda)) \frac{u}{l} \right]$$

$$B_{11}^2 = \theta^2 \cdot \mu \cdot 5l \cdot \frac{4}{5} u$$

RÓWNANIA RÓWNOWAGI ***

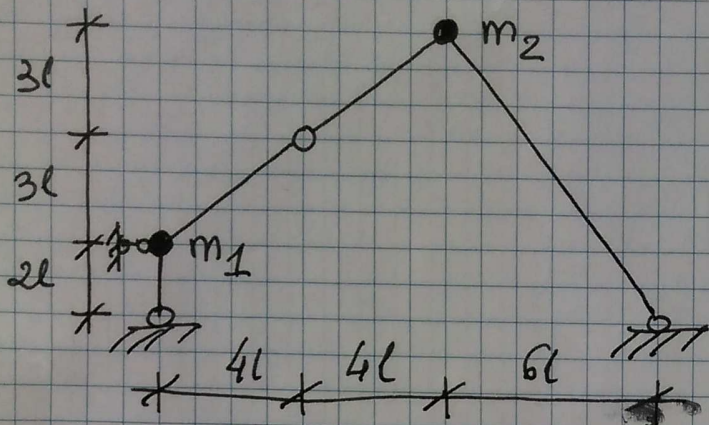
$$\phi_1^1 + \phi_1^2 = 0$$

$$-W_1^1 \cdot \bar{u} - W_1^2 \cdot \frac{3}{5} \bar{u} - W_B^2 \cdot \frac{3}{5} \bar{u} + B_{11}^2 \cdot \frac{4}{5} \bar{u} + P\bar{u} = 0$$

Należy rozwiązać układ równań *** i znaleźć wektor $\varphi_1 = \begin{bmatrix} \varphi_1 \\ u/l \end{bmatrix}$

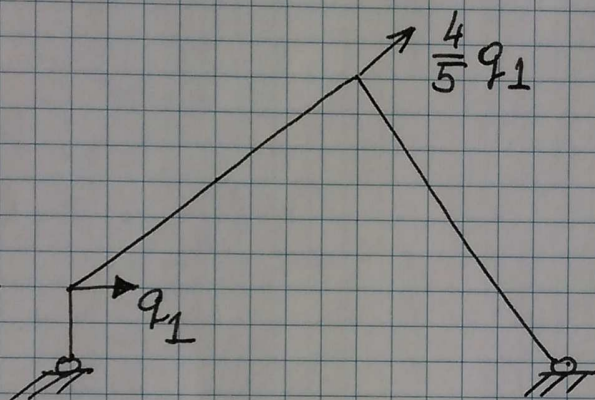
Następnie należy stwierdzić, że

$$H_A = W_A^1 = \frac{EI}{l^2} \left[\frac{1}{16} \theta'(4\lambda) \varphi_1 - \frac{1}{64} \varepsilon'(4\lambda) \frac{u}{l} \right]$$



- 1) $\omega_1, m_1 = m, m_2 = 2m$
 - 2) $\tilde{\omega}_1, m_1 = 2m, m_2 = m$
- obliczyć $\omega_1 / \tilde{\omega}_1$

OPRACOWAŁ: JAN PELCZYŃSKI



$$E_k = \frac{1}{2} \left(m_1 \dot{q}_1^2 + \frac{16}{25} m_2 \dot{q}_1^2 \right)$$

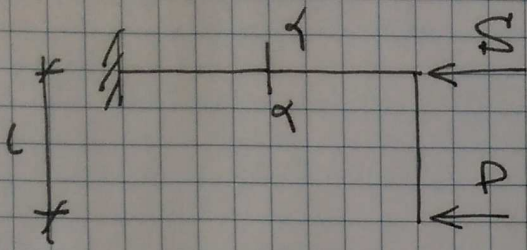
$$1) E_k = \frac{1}{2} \left(\dot{q}_1^2 + \frac{32}{25} \dot{q}_1^2 \right) m = \frac{1}{2} \frac{57}{25} \dot{q}_1^2 m \rightarrow m_{11} = \frac{57}{25} m$$

$$2) \tilde{E}_k = \frac{1}{2} \left(2 \dot{q}_1^2 + \frac{16}{25} \dot{q}_1^2 \right) m = \frac{1}{2} \cdot \frac{66}{25} \dot{q}_1^2 m \rightarrow \tilde{m}_{11} = \frac{66}{25} m$$

$$\omega = \sqrt{\frac{k}{m_{11}}}$$

$$\tilde{\omega} = \sqrt{\frac{k}{\tilde{m}_{11}}}$$


$$\frac{\omega}{\tilde{\omega}} = \sqrt{\frac{\tilde{m}_{11}}{m_{11}}} = \sqrt{\frac{66}{57}} = 1.076$$



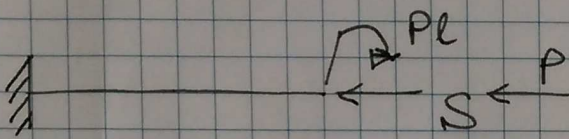
$$S = \frac{EI}{L^2}$$

$$EI = \text{const}$$

$$EA = \infty$$



Redukcja układu



$$\sigma_1 = 2l \sqrt{\frac{S}{EI}} = 2, \quad \xi = \frac{x}{2l}$$

OPERACONAK JAN PEŁCARNIKI

$$d) w(\xi) = C_1 + C_2 \xi + C_3 \sin(2\xi) + C_4 \cos(2\xi)$$

warunki brzegowe

$$1) w(0) = 0$$

$$2) \varphi(0) = 0 \rightarrow \frac{1}{2l} \frac{dw(\xi)}{d\xi} \Big|_{\xi=0} = 0$$

$$3) T(1) = 0$$

$$4) M(1) = -PL \rightarrow -\frac{EI}{4l^2} \frac{d^2 w(\xi)}{d\xi^2} \Big|_{\xi=1} = -PL$$

$$-\frac{EI}{8l^2} \frac{d^3 w(\xi)}{d\xi^3} \Big|_{\xi=1} - \frac{S}{2l} \frac{dw(\xi)}{d\xi} = 0$$

$S = \frac{EI}{L^2}$

Należy rozwiązać układ równań (1-5) (znaleźć stałe $C_1 \div C_4$)

$$M_d = -\frac{EI}{4l^2} \frac{d^2 w(\xi)}{d\xi^2} \Big|_{\xi=0.5}$$